

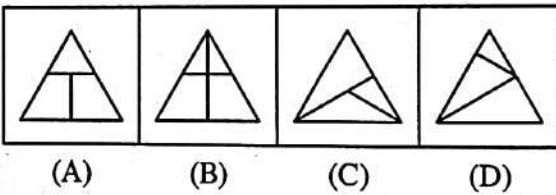
निर्देश (1-18):- निम्न प्रश्न में दिए गए उत्तर आकृतियों में से कौन-सी उत्तर-आकृति प्रश्न में दी गयी आकृति को सही-सही बना सकती है?

Directions (1-18):- Which of the answer figures given in the following question will correctly form the figure given in the question?


1. प्रश्न आकृति / Question Figure



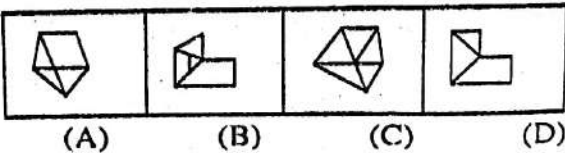
उत्तर आकृतियाँ / Answer Figure



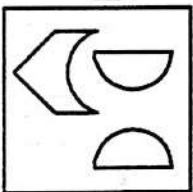
2. प्रश्न आकृति / Question Figure



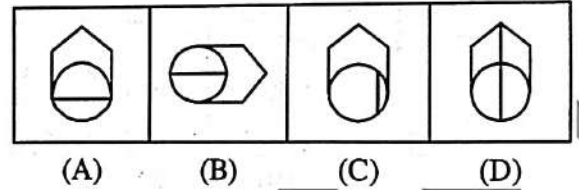
उत्तर आकृतियाँ / Answer Figure



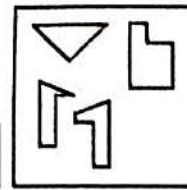
3. प्रश्न आकृति / Question Figure



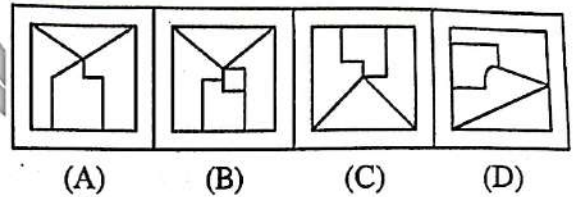
उत्तर आकृतियाँ / Answer Figure



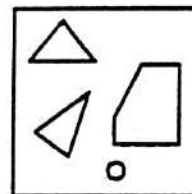
4. प्रश्न आकृति / Question Figure



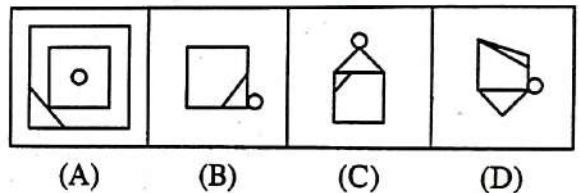
उत्तर आकृतियाँ / Answer Figure



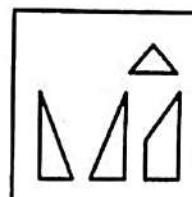
5. प्रश्न आकृति / Question Figure



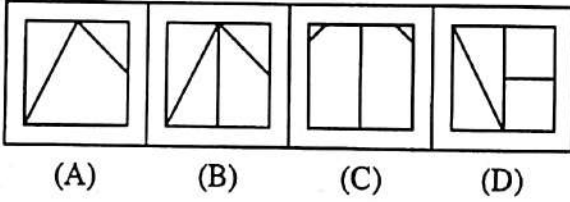
उत्तर आकृतियाँ / Answer Figure



6. प्रश्न आकृति / Question Figure



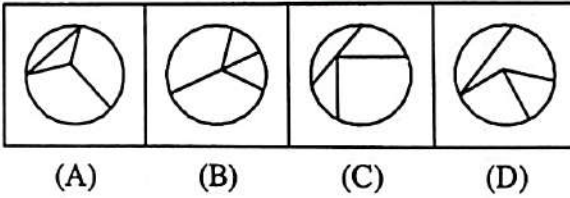
उत्तर आकृतियाँ / Answer Figure



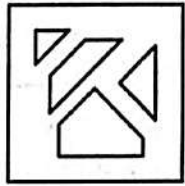
7. प्रश्न आकृति / Question Figure



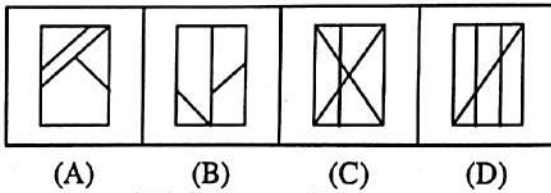
उत्तर आकृतियाँ / Answer Figure



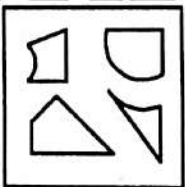
8. प्रश्न आकृति / Question Figure



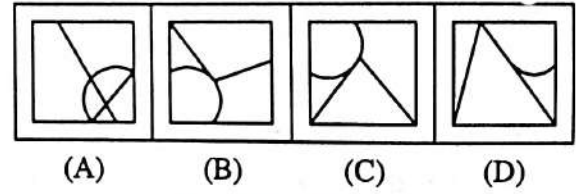
उत्तर आकृतियाँ / Answer Figure




9. प्रश्न आकृति / Question Figure



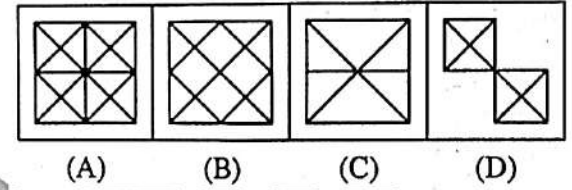
उत्तर आकृतियाँ / Answer Figure



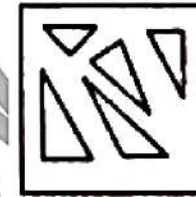
10. प्रश्न आकृति / Question Figure



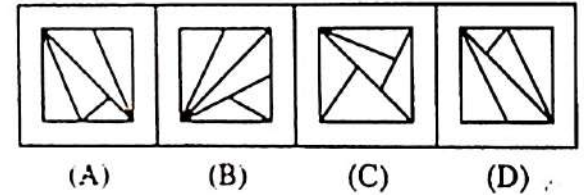
उत्तर आकृतियाँ / Answer Figure



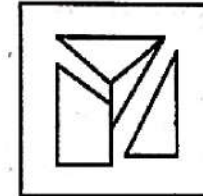
11. प्रश्न आकृति / Question Figure



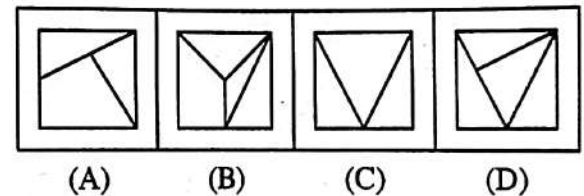
उत्तर आकृतियाँ / Answer Figure



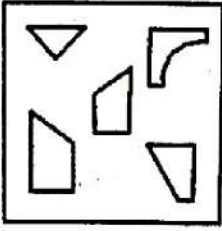
12. प्रश्न आकृति / Question Figure



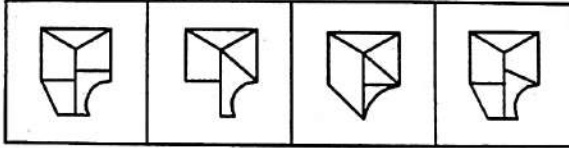
उत्तर आकृतियाँ / Answer Figure



13. प्रश्न आकृति / Question Figure




उत्तर आकृतियाँ / Answer Figure

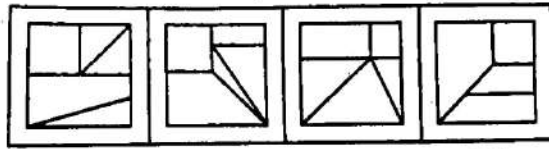


(A) (B) (C) (D)

14. प्रश्न आकृति / Question Figure




उत्तर आकृतियाँ / Answer Figure

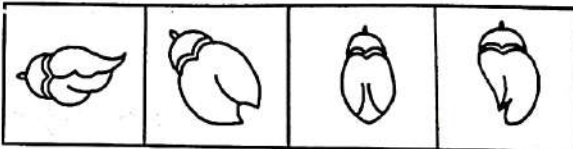


(A) (B) (C) (D)

15. प्रश्न आकृति / Question Figure

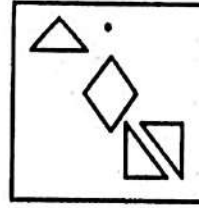


उत्तर आकृतियाँ / Answer Figure

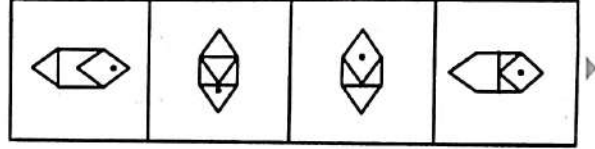


(A) (B) (C) (D)

16. प्रश्न आकृति / Question Figure




उत्तर आकृतियाँ / Answer Figure

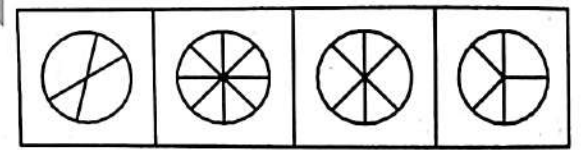


(A) (B) (C) (D)

17. प्रश्न आकृति / Question Figure

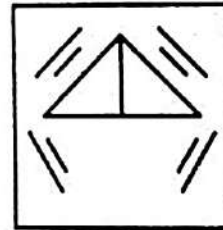


उत्तर आकृतियाँ / Answer Figure

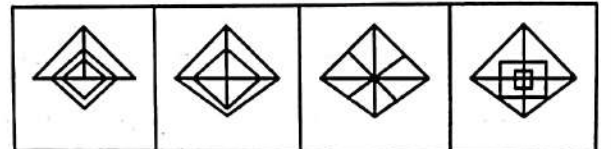


(A) (B) (C) (D)

18. प्रश्न आकृति / Question Figure



उत्तर आकृतियाँ / Answer Figure



(A) (B) (C) (D)

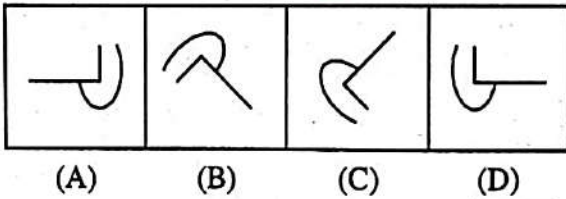
निर्देश (19-20) :- नीचे दिए गए प्रत्येक प्रश्न में एक प्रश्न-आकृति दी गई है। प्रश्न-आकृति किसी दिशा में मोड़ी जा सकती हैं, परन्तु इसे उठाकर पलटा नहीं जा सकता है। उत्तर-आकृतियों में से सही आकृति का चयन कीजिए, जो प्रश्न-आकृति को आवर्तित करके बनायी जा सके।

Direction (19-20) :- In each of the questions below is given a question figure. Question-The figure can be bent in any direction, but it cannot be turned over by lifting it. Select the correct figure from the answer figures, which can be formed by rotating the question figure.


19. प्रश्न आकृति / Question Figure



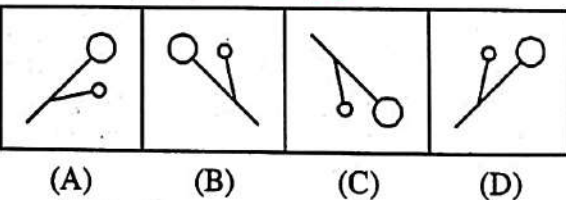
उत्तर आकृतियाँ / Answer Figure



20. प्रश्न आकृति / Question Figure



उत्तर आकृतियाँ / Answer Figure

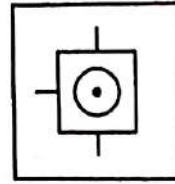


निर्देश (21-25) :- नीचे दिए गए प्रत्येक प्रश्न में दिए गए चार उत्तर-आकृतियों में से कौन-सी उत्तर-आकृति प्रश्न में दी गयी आकृति को सही-सही बना सकती है?

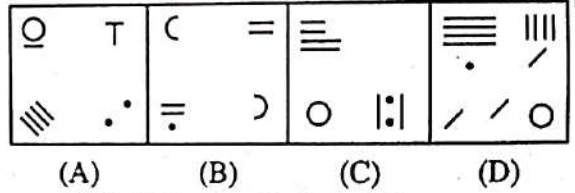
Directions (21-25) :- In each of the following questions, out of the four answer-figures

given below, which one will correctly form the figure given in the question?

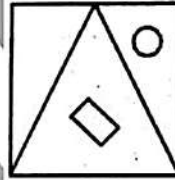
21. प्रश्न आकृति / Question Figure



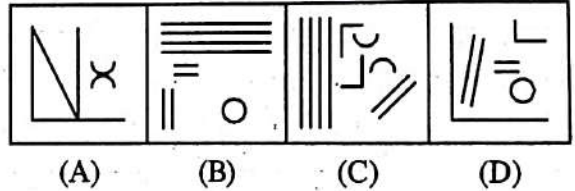
उत्तर आकृतियाँ / Answer Figure



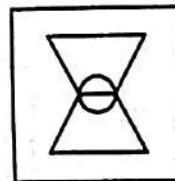
22. प्रश्न आकृति / Question Figure



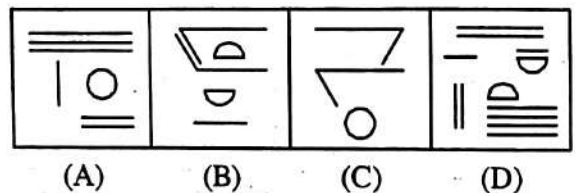
उत्तर आकृतियाँ / Answer Figure



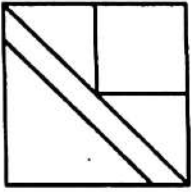
23. प्रश्न आकृति / Question Figure



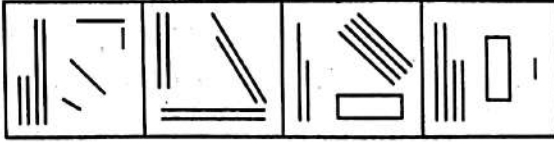
उत्तर आकृतियाँ / Answer Figure



24. प्रश्न आकृति / Question Figure



उत्तर आकृतियाँ / Answer Figure



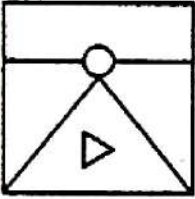
(A)

(B)

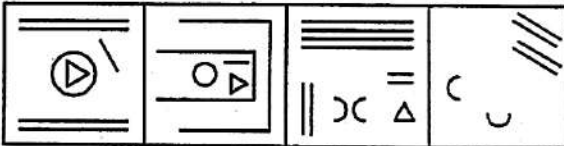
(C)

(D)

25. प्रश्न आकृति / Question Figure



उत्तर आकृतियाँ / Answer Figure



(A)

(B)

(C)

(D)